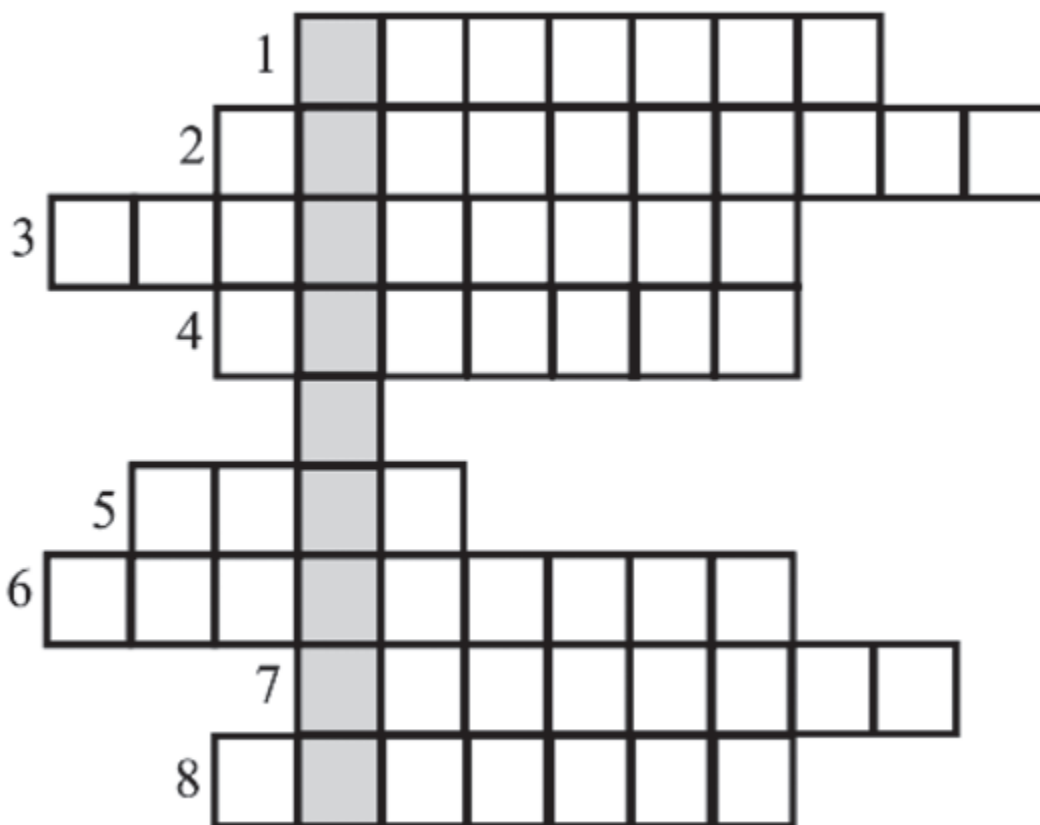


1. Jak se jmenoval první československý prezident, jehož socha stojí na náměstí?
2. Jak se jmenoval učitel národa, jehož busta stojí před budovou záměčku?
3. Jak se nazývá přehrada za Jevíčkem?
4. Co chtěl Hitler postavit mezi Wroslawí a Vídní?
5. Co se těžilo na Kumperku?
6. Jak se nazývá jevíčské náměstí?
7. Kdo byl velitelem napoleonských vojsk?
8. V jaké budově se nachází ZUŠ?

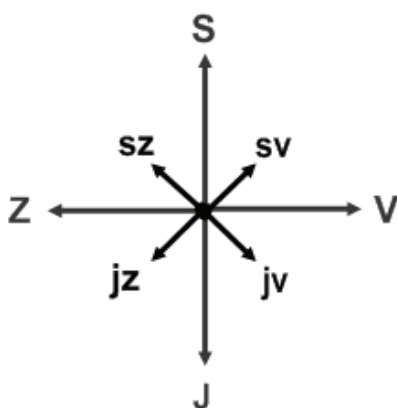
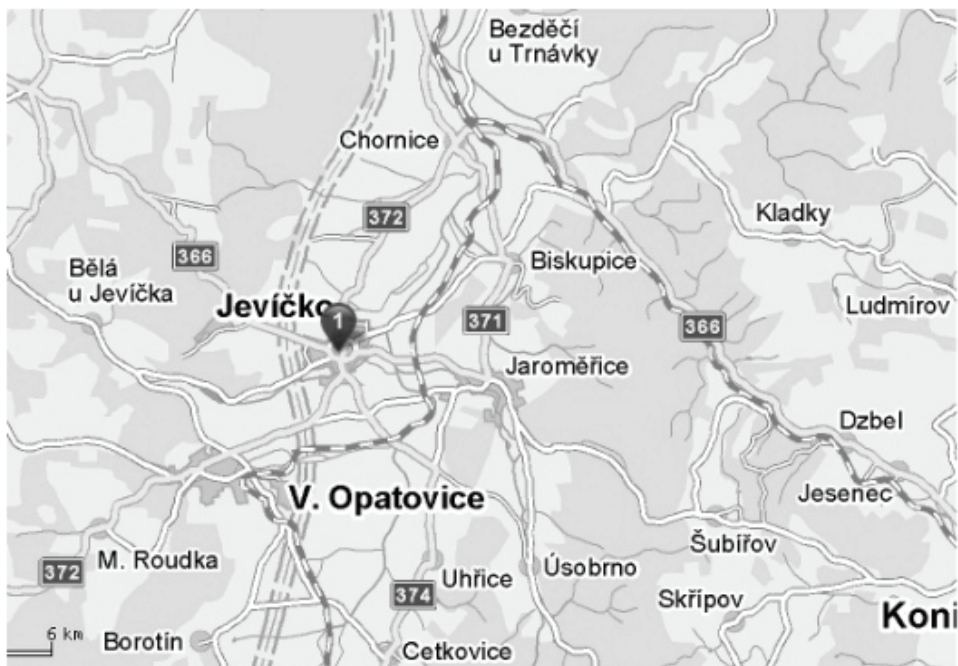


Města Moravskotřebovska a Jevíčska

Autorka: Bc. Veronika Federová

Pracovní list 2

Vypiš vesnice, které od Jevíčka leží na sever, jih, východ a západ.



sever: _____

jih: _____

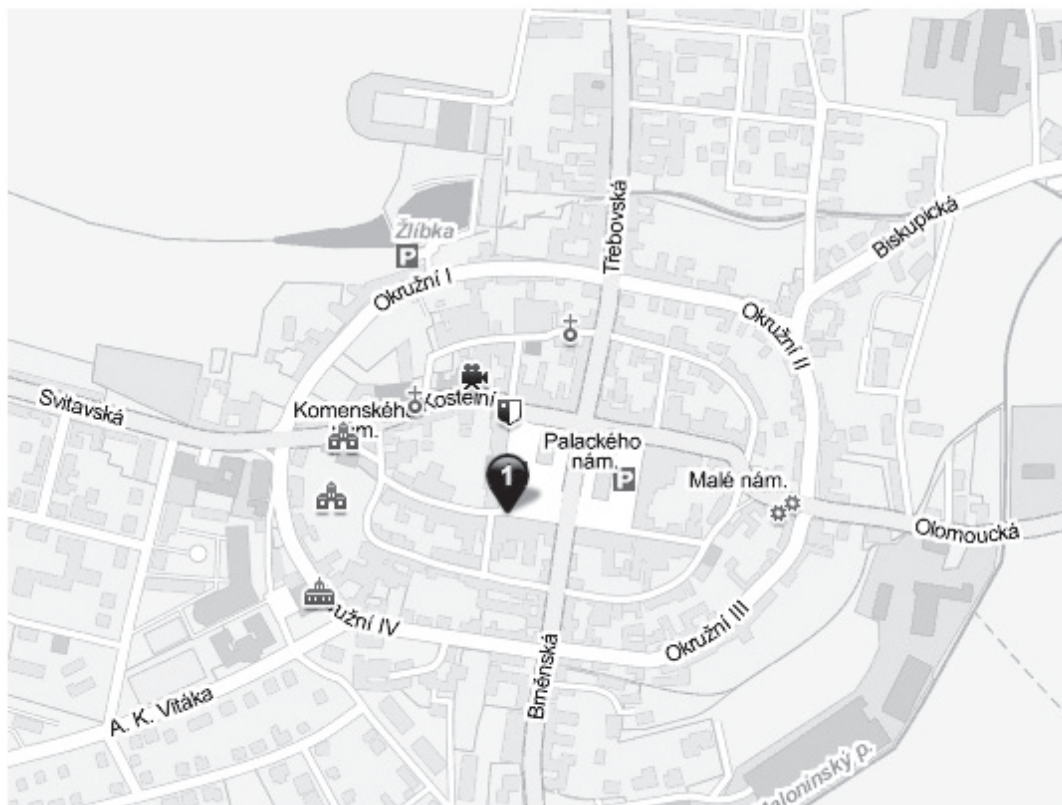
východ: _____

západ: _____

1. Seřadte názvy jevíčských ulic podle abecedy.

Svitavská, Třebovská, Biskupská, Olomoucká, Brněnská, A. K. Vitáka

2. Najdi a zakroužkuj ulice z předchozího úkolu na mapě.



1. Na pomníku napoleonských válek nalezneme počty pochovaných vojáků: 250 Rakušanů, 133 Francouzů, 20 Prusů a 8 Rusů. Vypočítej kolik jich je celkem?

2. Městská věž, původně gotická, doplňovala obranný systém města. Byla postavena současně s hradbami. Po velkém požáru roku 1562 byla přestavěna do dnešní podoby. Z původních zvonů byla během obou světových válek ulita děla.

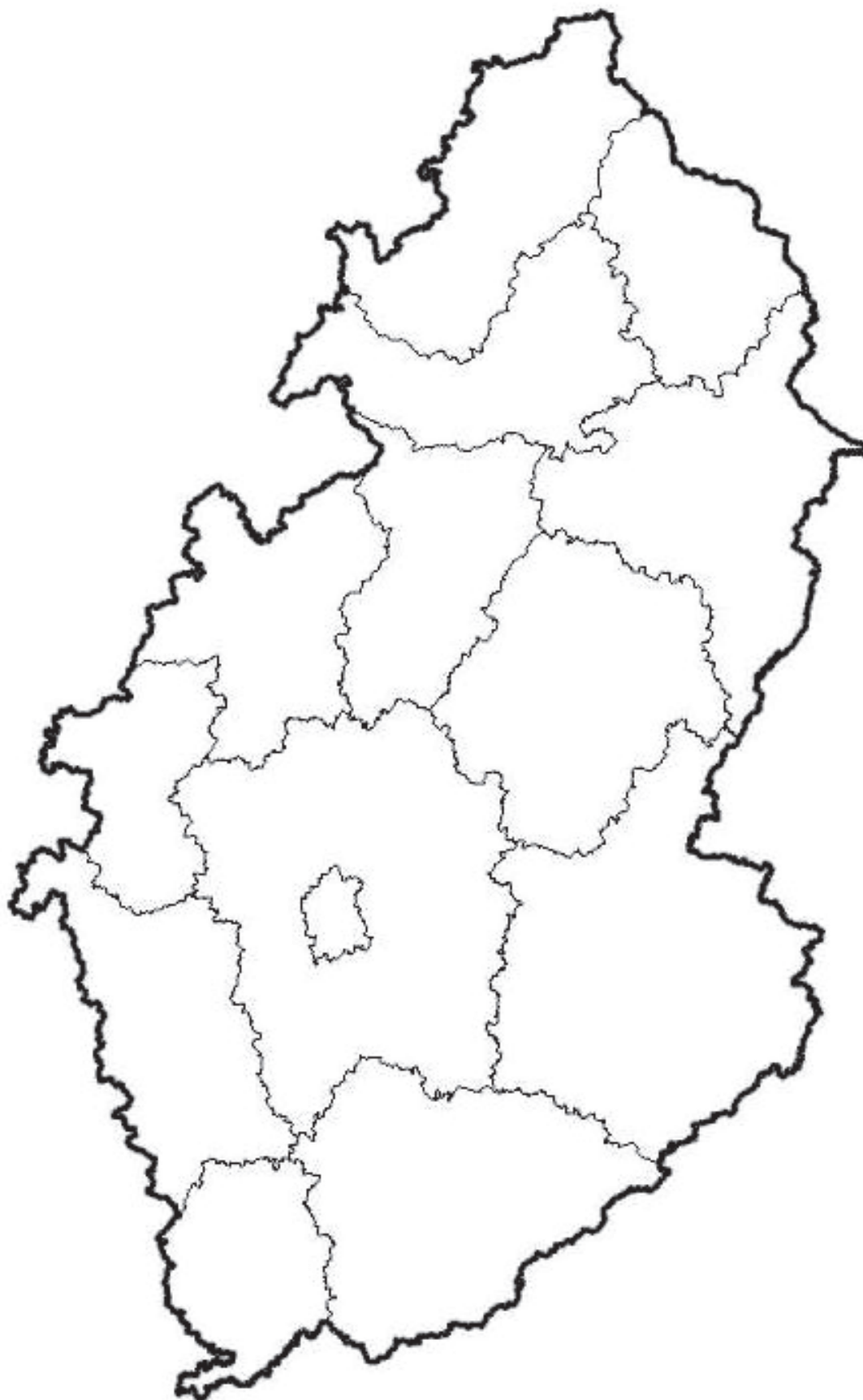
Nové zvony: sv. Václav - 850 kg, sv. Pavel - 620 kg a sv. Jan Nepomucký - 340 kg

Vypočítej váhu všech nových zvonů.

Podle zadaných rozměrů vypočítej obvod a obsah jevíčského náměstí.



Zapiš do slepé mapy názvy krajů. Podtrhni kraje, které sousedí s krajem Pardubickým.



Region Moravskotřebovsko leží na jihov_chodě _ardubického kraje. Územně jej děl_me na Malou Hanou a Hřebečsko. Centrem Malé Hané je město Jevíčsko a Hřebečska město Moravská _řebová. Obě města b_la založena ve 13. století a mají zajímavý prav_delný půdor_s.

1. Vypiš z textu 5 podstatných jmen.

2. Vypiš z textu 3 přídavná jména.

3. Najdi 3 slova s předponou a vyznač předponu.

4. Proveď stavbu slova a najdi předponovou a příponovou část a kořen slova

územně.

5. Napiš opozitum ke slovu **malá**.

6. Vypiš z textu 3 slovesa.

7. Najdi v textu souvětí a urči větný vzorec.

Zakroužkuj obrázky, které mají něco společného s judaismem (židovstvím).



Vystřihni a spoj, co k sobě patří.

TONER	příbory
MUČÍRNA	španělská bota
NÁDVOŘÍ ZÁMKU	sluneční hodiny
NEJVYŠŠÍ VRCHOL	Roh
ŘEKA	Třebůvka
MILTRA	sýr
HOLZMAISTER	muzeum
ALCHYMISTA	Bonacina
MORAVSKÁ TŘEBOVÁ	Moravské Athény
ZAKLADATEL MT	Boreš z Rýzmburka

Vystřihni a spoj správné dvojice.

CZECH BLADES	čepelky (žiletky)
KUMPERK	tuha
SYNAGOGA	Židé
SOCHA NA NÁMĚSTÍ	Masaryk
ZÁMEČEK	knihovna
JADRNÍČKOVÁ	výtvarnice
NEJVYŠŠÍ VRCHOL	Hušák
ŘÍČKA	Jevíčka
KRÁLOVSKÉ MĚSTO	1258
KOSTEL	Nanebevzetí Panny Marie

1. Jaký mnišský řád má v dnešní době na starosti kalvárii?

2. Čí duch podle pověsti strašil na kalvárii?

3. Kdy a kým byla kalvárie založena?

4. Čím je zvláštní křížová cesta?

5. Kdo navrhl barokní kostel, který je součástí kalvárie?

6. Co je součástí obětního stolu v Getsemanské zahradě?



1. Jak se nazývala Moravská Třebová v období renesance?

2. Kdo založil ve 13. století Moravskou Třebovou?

3. Napiš názvy mučicích nástrojů.

4. Kam se vypaloval tzv. cejch?

5. Kolik stupňů mělo mučení?

6. Kam se zapisoval průběh mučení?

7. Co se stalo s vězněm, který přežil všechny čtyři stupně mučení a nepřiznal se k žádnému zločinu?

8. Z kterého roku pocházejí sluneční hodiny na nádvoří zámku?


1. Který šlechtic založil na zámku v Moravské Třebové alchymistické laboratoře?

2. Kdo se stal na zámku vrchním alchymistou?

3. Po čem pátral Bonacina?

4. Co je nejdůležitějším pravidlem alchymistů?

5. Co patřilo k vybavení každého alchymisty?



1. Jak se jmenuje nejvyšší kopec v okolí Jevíčka?

- a) Kumperk b) Hušák c) Kalvárie d) Červený kopec

2. Jak se jmenuje říčka protékající Jevíčkem?

- a) Třebůvka b) Svitava c) Jevíčka d) Kelínky

3. Co vyrábí firma Czech Blades?

- a) zbraně b) příbory c) nože d) uhlíkaté čepelky

4. Ve kterém roce se stalo Jevíčko městem královským?

- a) 1258 b) 1290 c) 1499 d) 1312

5. Co tvoří znak města Jevíčka?

- a) červenobílý šachovaný lev v modrém poli
b) červenobílý šachovaný páv v modrém poli
c) červenobílá šachovaná orlice v modrém poli
d) červenobílý šachovaný medvěd v modrém poli

6. Kde jsou pochováni vojáci z bitvy u Lipska, kteří zemřeli v jevíčském lazaretu?

- a) na jevíčském hřbitově b) u pomníku napoleonských válek
c) na hřbitově u kostelíčka d) na židovském hřbitově

7. Kolik bran vedlo do Jevíčka?

- a) 1 b) 2 c) 3 d) 4

8. Kolik Židů se vrátilo po II. světové válce zpět do Jevíčka?

- a) žádný b) 1 c) 2 d) 3

9. Co se stalo se starými zvony z městské věže?

- a) měšťané je prodali b) neznámý zloděj je ukradl
c) byla z nich ulita děla d) spadly

10. Čím se proslavila Květoslava Jadrníčková?

- a) byla malířkou b) byla lékařkou
c) pomáhala Mendelovi v jeho výzkumech d) založila školu

1. Jak se jmenuje nejvyšší vrchol Hřebečska?

- a) Strážný vrch b) Hřebeč c) Roh d) Dubina

2. Jaké zvíře najdeme v prostorách kostela ve Vranové Lhotě?

- a) netopýr ušatý b) netopýr velký c) netopýr rezavý d) netopýr parkový

3. Která firma v Moravské Třebové se zabývá výrobou příborů?

- a) Toner b) Miltra c) Rehau d) Hedva

4. Kdo založil Moravskou Třebovou?

- a) Karel IV. b) L. V. Holzmaister c) Velen ze Žerotína d) Boreš z Rýzmburka

5. Jak byla Moravská Třebová nazývána v období renesance?

- a) Moravský Řím b) Moravské Benátky
c) Moravské Athény d) Moravský Jeruzalém

6. Ve kterém roce bylo historické centrum Moravské Třebové vyhlášeno městskou památkovou rezervací?

- a) 2006 b) 1956 c) 1806 d) 1706

7. Jakou technickou památku nalezneme na nádvoří zámku v Moravské Třebové?

- a) orloj b) parní lokomotivu c) přesýpací hodiny d) sluneční hodiny

8. Co pro Moravskou Třebovou vykonal L. V. Holzmaister?

- a) financoval stavbu městského muzea b) financoval stavbu nemocnice
c) postavil kašnu na náměstí d) financoval stavbu zámku

Vypočítejte průměrnou teplotu vzduchu v jednotlivých ročních obdobích.

měsíc	prům. teplota vzduchu
Leden	- 4,2
Únor	- 2,6
Březen	2,2
Duben	6,9
Květen	11,9
Červen	14,4
Červenec	16,1
Srpen	15,6
Září	12,4
Říjen	7,8
Listopad	1,9
Prosinec	2,5

Číselné údaje v tabulce jsou ve °C.

jaro:

léto:

podzim:

zima:

Znak města rozstříhej podle čar a znovu slož.



Poskládejte z písmen názvy toků v okolí Moravské Třebové

Ů T A V Ř K E B

S Á U Ý N D K O P K T O

V I A V T A S

O E Ř K B A T V

Poskládej písmena tak, aby ti vznikly názvy toků v okolí Jevíčka.

Č Í E J A K V

I N O A M L N Ý K S T P K O O

A A E C V N T

I S K P B Ý K U C I T O O K P

H Ý C Ř I K U K P O T O
